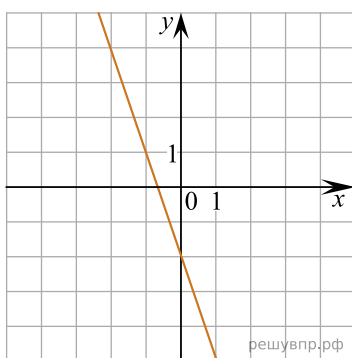
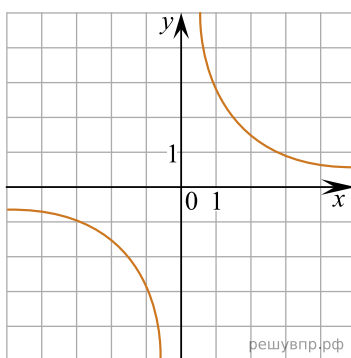


Установите соответствие между графиками функций и формулами, которые задают эти функции.

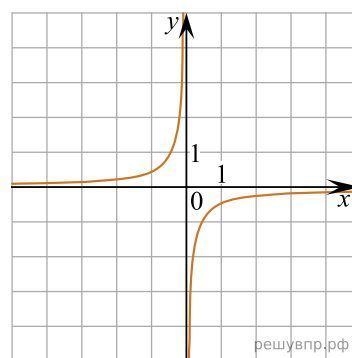
## ГРАФИКИ



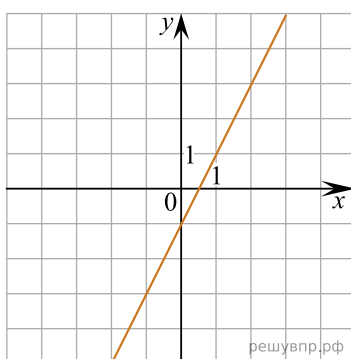
А)



Б)



В)



Г)

## ФОРМУЛЫ

- 1)  $f(x) = kx + b$ , где  $k > 0$ ;    2)  $f(x) = kx + b$ , где  $k < 0$ ;  
 3)  $f(x) = \frac{k}{x}$ , где  $k > 0$ ;    4)  $f(x) = \frac{k}{x}$ , где  $k < 0$ .

В таблице под каждой буквой укажите соответствующий номер.

А	Б	В	Г
<input type="text"/>	<input type="text"/>	<input type="text"/>	<input type="text"/>