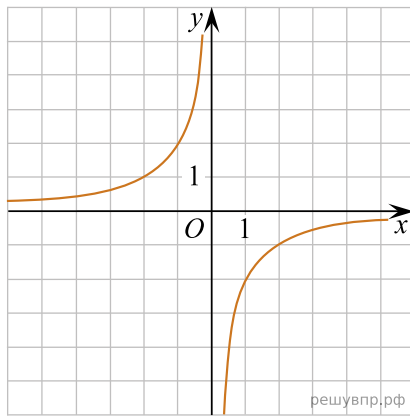
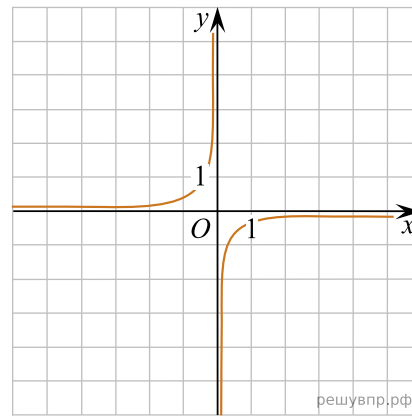


Установите соответствие между графиками функций и формулами, которые задают эти функции.

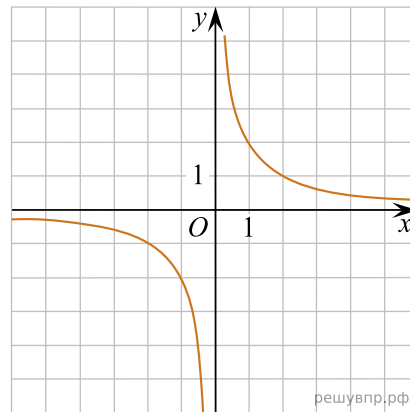
ГРАФИКИ



А)



Б)



В)

ФОРМУЛЫ

1) $y = -\frac{1}{2x}$ 2) $y = -\frac{2}{x}$ 3) $y = \frac{2}{x}$

В таблице под каждой буквой укажите соответствующий номер.

А	Б	В
<input type="checkbox"/>	<input type="checkbox"/>	<input type="checkbox"/>